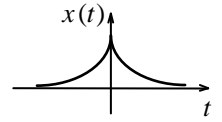
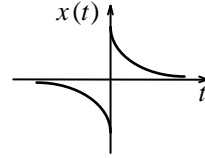
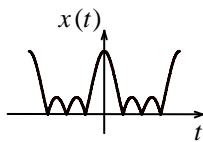
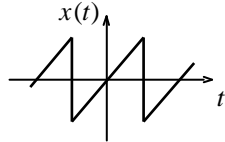
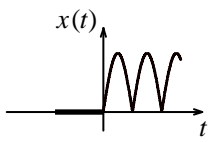


ΑΣΚΗΣΗ 1.13.

Σημειώστε όσο γίνεται περισσότερες ιδιότητες τις οποίες έχουν τα ακόλουθα σήματα



- | | | | | |
|----------|----------|----------|----------|----------|
| α) | α) | α) | α) | α) |
| β) | β) | β) | β) | β) |
| γ) | γ) | γ) | γ) | γ) |
| δ) | δ) | δ) | δ) | δ) |